

अनुक्रमांक

नाम

932

825(BY)

2022

सामाजिक विज्ञान

(Hindi and English Versions)

समय : तीन घण्टे 15 मिनट [पूर्णांक : 70

नोट : प्रारम्भ के 15 मिनट परीक्षार्थियों को प्रश्नपत्र पढ़ने के लिए निर्धारित हैं ।

Note : First 15 minutes are allotted for the candidates to read the question paper.

- निर्देश : i) यह प्रश्नपत्र दो खण्डों क एवं ख में विभाजित है। प्रत्येक खण्ड के सभी प्रश्न एक साथ हल करना आवश्यक है। प्रत्येक खण्ड का उत्तर नए पृष्ठ से प्रारम्भ किया जाय।
- ii) प्रत्येक प्रश्न के लिए निर्धारित अंक उसके सम्मुख अंकित हैं।

825(BY)

2

- iii) प्रश्नपत्र में चार प्रकार के प्रश्न हैं — बहुविकल्पीय, अति लघु उत्तरीय, लघु उत्तरीय व दीर्घ उत्तरीय, जिनके सम्बन्ध में निर्देश उनके आरम्भ में दिये गये हैं।
- iv) क तथा ख खण्डों हेतु दिये गये मानचित्रों को उत्तर-पुस्तिका में मजबूती के साथ संलग्न करना आवश्यक है।
- v) दृष्टिबाधित परीक्षार्थियों के लिये मानचित्र कार्य के स्थान पर अलग से खण्ड - क में प्रश्न संख्या 14 तथा खण्ड - ख में प्रश्न संख्या 28 के उत्तर लिखने के लिये दिये गये हैं।

Instructions :

- i) This question paper is divided into two Parts A & B. Attempt all the questions of each part together at one place. Each part should be attempted on a new page.
- ii) Marks allotted for each question are mentioned against it.
- iii) This question paper contains four types of questions — Multiple-choice type, Very Short Answer type, Short Answer type and Long Answer type. Instructions have been given at the beginning of each type of question.

- iv) Attach firmly the supplied maps for Parts – A & B to your answer-book.
- v) For vision-impaired examinees Question No. 14 in Part-A and Question No. 28 in Part-B have been given separately for writing answers in lieu of map work.

खण्ड - क

PART - A

(बहुविकल्पीय प्रश्न)

(Multiple Choice Type Questions)

निर्देश : निम्नलिखित विकल्पों में से सही उत्तर चुनकर अपनी उत्तर-पुस्तिका में लिखिए :

Instruction : Choose the correct answer from the given alternatives and write in your answer-book :

- फ्रांस की क्रान्ति कब हुई थी ?
क) 1688 ख) 1789
ग) 1914 घ) 1939. 1
- When did French Revolution take place ?
a) 1688 b) 1789
c) 1914 d) 1939. 1
- भारत में शिक्षक दिवस कब मनाया जाता है ?
क) 10 दिसम्बर ख) 14 नवम्बर
ग) 5 सितम्बर घ) 15 अगस्त। 1

- When is Teacher's Day celebrated in India ?
a) 10th December
b) 14th November
c) 5th September
d) 15th August. 1
- भारत में 'राष्ट्रपिता' कह कर किसको सम्बोधित किया जाता है ?
क) महात्मा गाँधी
ख) जवाहरलाल नेहरू
ग) सुभाषचन्द्र बोस
घ) गोपाल कृष्ण गोखले। 1
- Who is addressed by the name of 'Father of Nation' in India ?
a) Mahatma Gandhi
b) Jawaharlal Nehru
c) Subhash Chandra Bose
d) Gopal Krishna Gokhale. 1
- संयुक्त राष्ट्रसंघ का मुख्यालय कहां पर है ?
क) जेनेवा ख) न्यूयार्क
ग) द हेग घ) इनमें से कोई नहीं। 1
- Where is the Headquarters of United Nations Organisation situated ?
a) Geneva b) New York
c) The Hague d) None of these. 1
- भारतीय राष्ट्रीय कांग्रेस की स्थापना कब हुई थी ?
क) 1885 ख) 1904
ग) 1857 घ) 1855 1

5. When was Indian National Congress established ?

- a) 1885 b) 1904
c) 1857 d) 1855. 1

6. लिखित संविधान भारत में कब लागू हुआ ?

- क) 15 अगस्त ख) 14 अगस्त
ग) 10 दिसम्बर घ) 26 जनवरी। 1

6. When did the written constitution come into force in India ?

- a) 15th August b) 14th August
c) 10th December d) 26th January. 1

(अति लघु उत्तरीय प्रश्न)

(Very Short Answer Type Questions)

7. भारत के किन्हीं दो पड़ोसी देशों के नाम लिखिए। 1 + 1

7. Write the names of any *two* neighbouring countries of India. 1 + 1

8. भारतीय विदेश नीति के कोई दो सिद्धान्त बताइए। 1 + 1

8. State any *two* principles of Indian foreign policy. 1 + 1

9. संयुक्त राष्ट्रसंघ की सुरक्षा परिषद के दो स्थायी सदस्य देशों के नाम लिखिए। 1 + 1

9. Write the names of *two* permanent member countries of Security Council of United Nations Organisation. 1 + 1

(लघु उत्तरीय प्रश्न)

(Short Answer Type Questions)

10. भारत छोड़ो आन्दोलन के किन्हीं तीन कारणों का उल्लेख कीजिए। 1 + 1 + 1

अथवा

भारत में लोकतंत्र की सफलता के लिए आवश्यक किन्हीं तीन दशाओं का उल्लेख कीजिए। 1 + 1 + 1

10. Write any *three* causes of Quit India Movement. 1 + 1 + 1

OR

Describe any *three* essential conditions for the success of Democracy in India. 1 + 1 + 1

11. असहयोग आन्दोलन के मुख्य कारण क्या थे ? 3

अथवा

प्रथम विश्वयुद्ध के किन्हीं तीन परिणामों का उल्लेख कीजिए। 1 + 1 + 1

11. What was the main cause of Non-cooperation movement ? 3

OR

Describe any *three* consequences of first world war. 1 + 1 + 1

(दीर्घ उत्तरीय प्रश्न)

(Long Answer Type Questions)

12. यूरोप में राष्ट्रवाद के विकास में संस्कृति के योगदान को दर्शाने के लिए तीन उदाहरण दें। $2 + 2 + 2$

अथवा

जर्मनी के एकीकरण की प्रक्रिया के बारे में एक संक्षिप्त लेख लिखिए। 6

12. Give three examples to show the contribution of culture to the growth of nationalism in Europe. $2 + 2 + 2$

OR

Describe a short account on the process of integration of Germany. 6

13. लोकतांत्रिक शासन की किन्हीं दो चुनौतियों का उल्लेख कीजिए। $3 + 3$

अथवा

भारतीय लोकतंत्र में राजनीतिक दलों की भूमिका का वर्णन कीजिए। 6

13. Mention any two challenges of a democratic government. $3 + 3$

OR

Describe the role of political parties in Indian democracy. 6

(मानचित्र सम्बन्धी प्रश्न)

(Map Work)

- निर्देश : निम्नलिखित स्थानों को भारत के दिये गये रेखा मानचित्र में \odot चिह्न द्वारा नाम सहित दर्शाइए। सही नाम तथा सही स्थान अंकन के लिये $\frac{1}{2}$, $\frac{1}{2}$ अंक निर्धारित हैं :

Instruction : In the given outline map of India locate the following places by the symbol \odot with names. For correct mention of name and location $\frac{1}{2}$, $\frac{1}{2}$ marks have been allotted.

14. i) वह स्थान जहाँ भारतीय राष्ट्रीय कांग्रेस का प्रथम अधिवेशन हुआ था। $\frac{1}{2} + \frac{1}{2}$
- ii) वह स्थान जहाँ सितम्बर, 1920 में भारतीय राष्ट्रीय कांग्रेस का अधिवेशन हुआ। $\frac{1}{2} + \frac{1}{2}$
- iii) वह स्थान जहाँ 1927 में भारतीय राष्ट्रीय कांग्रेस का अधिवेशन हुआ। $\frac{1}{2} + \frac{1}{2}$
- iv) वह स्थान जहाँ आनन्द भवन स्थित है। $\frac{1}{2} + \frac{1}{2}$
- v) वह स्थान जहाँ प्रसिद्ध स्वर्ण मन्दिर स्थित है। $\frac{1}{2} + \frac{1}{2}$
14. i) The place where first conference of Indian National Congress was held. $\frac{1}{2} + \frac{1}{2}$
- ii) The place where Indian National Congress session in September, 1920 took place. $\frac{1}{2} + \frac{1}{2}$

- iii) The place where Indian National Congress session in 1927 took place. $\frac{1}{2} + \frac{1}{2}$
- iv) The place where Anand Bhavan is located. $\frac{1}{2} + \frac{1}{2}$
- v) The place where famous Golden temple is located. $\frac{1}{2} + \frac{1}{2}$

(केवल दृष्टिबाधित परीक्षार्थियों के लिये)

(मानचित्र कार्य के विकल्प के रूप में)

(Only for visually-impaired examinees in lieu of Map work)

निर्देश : इन प्रश्नों के उत्तर अपनी उत्तर-पुस्तिका में लिखिए।
मानचित्र का प्रयोग न कीजिए।

Instruction : Write the answers of the following questions in lieu of map work in your answer-book. Do not use map.

14. i) भारतीय राष्ट्रीय कांग्रेस का प्रथम अधिवेशन कहाँ हुआ था ? 1
- ii) सितम्बर, 1920 में भारतीय राष्ट्रीय कांग्रेस का अधिवेशन कहाँ हुआ था ? 1
- iii) 1927 में भारतीय राष्ट्रीय कांग्रेस का अधिवेशन कहाँ हुआ था ? 1
- iv) आनन्द भवन कहाँ स्थित है ? 1
- v) प्रसिद्ध स्वर्ण मन्दिर कहाँ स्थित है ? 1
14. i) Where was the first conference of Indian National Congress held ? 1

- ii) Where did Indian National Congress session in September, 1920 take place ? 1
- iii) Where did Indian National Congress session in 1927 take place ? 1
- iv) Where is Anand Bhavan located ? 1
- v) Where is famous Golden Temple located ? 1

खण्ड - ख

PART - B

(बहुविकल्पीय प्रश्न)

(Multiple Choice Type Questions)

निर्देश : निम्नलिखित विकल्पों में से सही उत्तर चुनकर अपनी उत्तर-पुस्तिका में लिखिए :

Instruction : Choose the correct answer from the following options and write in your answer-book :

15. निम्न में से कौन-सी रोपण फसल है ?
- क) गेहूँ ख) चना
- ग) गन्ना घ) मूँगफली। 1
15. Which among the following is plantation crop ?
- a) Wheat b) Gram
- c) Sugarcane d) Groundnut. 1
16. निम्न में से कौन-सा संसाधन पुनःचक्रिय है ?
- क) लोहा ख) पवन ऊर्जा
- ग) ज्वारीय ऊर्जा घ) पशुधन। 1

16. Which among the following resources is recyclable ?
- a) Iron b) Wind energy
c) Tidal energy d) Livestock. 1
17. कोरबा प्रसिद्ध है
- क) प्राकृतिक गैस के लिए
ख) कोयला के लिए
ग) सौर ऊर्जा के लिए
घ) बॉक्साइट के लिए। 1
17. Korba is famous for
- a) Natural gas b) Coal
c) Solar energy d) Bauxite. 1
18. निम्न में से कौन-सी खेतीदार फसल है ?
- क) कपास ख) जूट
ग) प्राकृतिक रेशम घ) इनमें से सभी। 1
18. Which among the following is a fibrous crop ?
- a) Cotton b) Jute
c) Natural silk d) All of these. 1
19. निम्न पड़ोसी देशों में से मानव विकास के लिहाज से किस देश की स्थिति भारत से बेहतर है ?
- क) बांग्लादेश ख) श्रीलंका
ग) नेपाल घ) पाकिस्तान। 1
19. Which among the following neighbouring countries has better position in terms of human development than India ?
- a) Bangladesh b) Sri Lanka
c) Nepal d) Pakistan. 1

20. एक वस्तु का अधिकांशतः प्राकृतिक प्रक्रिया से उत्पादन सम्मिलित है
- क) प्राथमिक क्षेत्रक में
ख) द्वितीयक क्षेत्रक में
ग) तृतीयक क्षेत्रक में
घ) सूचना प्रौद्योगिकी में। 1
20. Production of a commodity mostly through the natural process is included in
- a) Primary sector
b) Secondary sector
c) Tertiary sector
d) Information Technology. 1

(अति लघु उत्तरीय प्रश्न)

(Very Short Answer Type Questions)

21. अपुनर्चक्रिय प्राकृतिक संसाधन किसे कहते हैं ? कोई दो उदाहरण दीजिए। $1 + \frac{1}{2} + \frac{1}{2}$
21. What is non-recyclable natural resource ? Give any *two* examples. $1 + \frac{1}{2} + \frac{1}{2}$
22. अर्थव्यवस्था के असंगठित क्षेत्र के श्रमिकों की कोई दो समस्याएँ लिखिए। $1 + 1$
22. Write any *two* problems of the labourers of unorganised sector of economy. $1 + 1$

23. अर्थव्यवस्था का कौन-सा क्षेत्रक लोगों को सर्वाधिक रोजगार प्रदान करता है ? 2
23. Which sector of economy does provide maximum employment to the people ? 2

(लघु उत्तरीय प्रश्न)

(Short Answer Type Questions)

24. अर्थव्यवस्था के तृतीयक क्षेत्र से आप क्या समझते हैं ? उदाहरण सहित बताइए। 1½ + 1½

अथवा

गन्ना के उत्पादन के लिए अनुकूल भौगोलिक दशाएँ बताइए। 3

24. What do you understand by tertiary sector of economy ? Write with examples. 1½ + 1½

OR

Give suitable geographical conditions for the cultivation of sugarcane. 3

25. ऊर्जा के परम्परागत स्रोत किसे कहते हैं ? उदाहरण सहित बताइए। 1½ + 1½

अथवा

विकास की पारम्परिक अवधारणा से आप क्या समझते हैं ? 3

25. What are conventional sources of energy ? State with examples. 1½ + 1½

OR

What do you understand by the traditional concept of development ? 3

(दीर्घ उत्तरीय प्रश्न)

(Long Answer Type Questions)

26. प्राकृतिक संसाधन क्या हैं ? इनके संरक्षण की आवश्यकता क्यों है ? 3 + 3

अथवा

भारत में कृषि के महत्व पर एक संक्षिप्त टिप्पणी लिखिए। 6

26. What are natural resources ? Why there is a need for their preservation ? 3 + 3

OR

Write a short note on the importance of Agriculture in India. 6

27. वैश्वीकरण किसे कहते हैं ? वैश्वीकरण को सम्भव बनाने वाले कारक बताइए। 2 + 4

अथवा

उपभोक्ता के अधिकारों पर एक निबंध लिखिए। 6

27. What is globalisation ? Give the factors that have enabled globalisation. 2 + 4

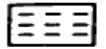



OR

Write an essay on the rights of consumers. 6

(मानचित्र कार्य)
(Map Work)

निर्देश : दिये गये भारत के मानचित्र में निम्नलिखित को दर्शाइए :

Instruction : Show the following on the given map of India.

28. i) गोदावरी नदी / चिह्न द्वारा नाम सहित। $\frac{1}{2} + \frac{1}{2}$
 ii) नागार्जुन सागर बाँध ○ चिह्न द्वारा नाम सहित। $\frac{1}{2} + \frac{1}{2}$
 iii) दक्षिणी भारत में कॉफी उत्पादक क्षेत्र  चिह्न द्वारा। $\frac{1}{2} + \frac{1}{2}$
 iv) भारत के किसी एक जूट उत्पादक क्षेत्र  चिह्न द्वारा। $\frac{1}{2} + \frac{1}{2}$
 v) कोच्चि बन्दरगाह ● चिह्न द्वारा नाम सहित। $\frac{1}{2} + \frac{1}{2}$
28. i) Godavari river by symbol / with name. $\frac{1}{2} + \frac{1}{2}$
 ii) Nagarjuna Sagar Dam by symbol ○ with name. $\frac{1}{2} + \frac{1}{2}$
 iii) Coffee producing area in south India by symbol  . $\frac{1}{2} + \frac{1}{2}$
 iv) Any one Jute producing area in India by symbol  . $\frac{1}{2} + \frac{1}{2}$
 v) Kochchi port by symbol ● with name. $\frac{1}{2} + \frac{1}{2}$

(केवल दृष्टिबाधित परीक्षार्थियों के लिये
मानचित्र कार्य के विकल्प के रूप में)

(Only for vision-impaired examinees in lieu of map work)

निर्देश : निम्नलिखित प्रश्नों के उत्तर अपनी उत्तर-पुस्तिका में लिखिए। मानचित्र का प्रयोग न कीजिए।

Instruction : Write answers of the following questions in your answer-book. Do not use the map.

28. i) गोदावरी नदी देश के किस भाग में बहती है ? 1
 ii) नागार्जुन सागर बाँध किस नदी में बना है ? 1
 iii) दक्षिण भारत में कहवा (कॉफी) उत्पादक किसी एक राज्य का नाम लिखिए। 1
 iv) भारत में जूट उत्पादक किसी एक राज्य का नाम लिखिए। 1
 v) कोच्चि बन्दरगाह किस राज्य में है ? 1
28. i) In which part of the country does Godavari river flow ? 1
 ii) On which river is Nagarjuna Sagar Dam constructed ? 1
 iii) Write the name of any one coffee producing state in south India. 1
 iv) Write the name of any one Jute producing state in India. 1
 v) In which state is Kochchi port ? 1